

سؤال قصير ٣ (م - ف) مادة علوم الصف الاول فصل الدراسي الثانيالسؤال الاول: ظلل الشكل يمين الاجابة الصحيحة

(١) يصنع البالون من

معدن قماش مطاط خشب

٢

(٢) من المواد الشفافة



١

السؤال الثاني: ضع (√) أمام كل عبارة من العبارات في الجدول

خطأ	صح	العبارة
		الطائرة الورقية قوية
		العدسة المكبرة شفافة

السؤال الثالث: صل الصورة ف العمود الأيمن بتسميتها في العمود الأيسر

ورق



(١)

زجاج



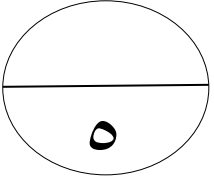
(٢)

بلاستيك



(٣)

٢



واجب منزلي للصف الاول الفصل الدراسي الثاني

السؤال الاول : ظلل الشكل يمين الاجابة الصحيحة

٢

١- القميص مصنوع من


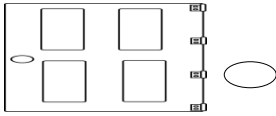
الورق

القماش

المعدن



الخشب

٢- من الأشياء المصنوعة من الخشب



السؤال الثاني : ضع دائرة حول الأشياء المصنوعة من الزجاج

٢



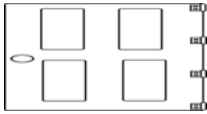

١

السؤال الثالث : ضع (√) أمام كل عبارة من العبارات في الجدول

خطأ	صح	العبارة
		السيارة مصنوعة من مادة قوية
		الكتاب مصنوع من الورق

نموذج الاجابة للواجب المنزلى للصف الاول علوم (فهم - معرفة) الفصل الدراسي

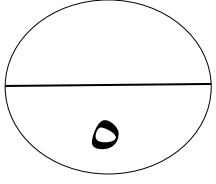
الثانى

السؤال	رقم الهدف	الاجابة	معلومات اضافية
١		القماش 	درجتين اذا كانت جميع الاجابات صحيحة • درجة اذا كانت اجابة واحدة صحيحة
٢			• درجتين اذا كانت جميع الاجابات صحيحة • درجة اذا كانت اجابتين صحيحتين
٣		(√) العبارة صح (√) العبارة صح	• درجة اذا كانت الاجابة صحيحة بالكامل

نموذج الاجابة السؤال القصير للصف الاول علوم (فهم - معرفة) الفصل الدراسي

الثاني

السؤال	رقم الهدف	الاجابة	معلومات اضافية
١		(١) مطاط (٢)	درجتين اذا كانت جميع الاجابات صحيحة • درجة اذا كانت اجابة واحدة صحيحة
٢		(√) العبارة خطأ (√) العبارة صح	• درجة اذا كانت الاجابة صحيحة بالكامل
٣		(١) زجاج (٢) بلاستيك (٣) ورق	• درجتين اذا كانت جميع الاجابات صحيحة • درجة اذا كانت اجابتين صحيحتين




سؤال قصير ٥ (م - ف) مادة علوم الصف الاول الفصل الدراسي الثاني


السؤال الاول : ظلل الشكل يمين الاجابة الصحيحة

٢

(١) اي من الصور تمثل قوى سحب



(٢) من الأشياء التي تدفع



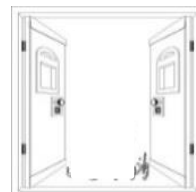
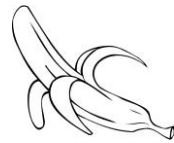
السؤال الثاني : ضع علامة (√) أمام كل عبارة من العبارات في الجدول

١


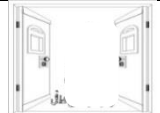


خطأ	صح	العبارة
		ندفع ستارة النافذة
		نسحب غطاء القلم

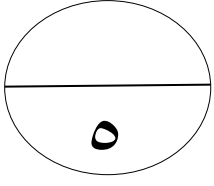
السؤال الثالث : صل الصورة ف العمود الأيمن بتسميتها في العمود الأيسر

٢



نموذج الاجابة سؤال قصيره (م - ف) مادة علوم الصف الاول الفصل الدراسي الثاني

السؤال	رقم الهدف	الاجابة	معلومات اضافية
١			• درجة لكل اختياري صحيح
٢		<p>(×) العبارة خطأ</p> <p>(√) العبارة صح</p>	• درجة اذا كانت الاجابة صحيحة بالكامل
٣		<p>دفع</p>  <p>سحب</p>  <p>سحب</p> 	<p>• درجتين اذا كانت جميع الاجابات صحيحة</p> <p>• درجة اذا كانت اجابتين صحيحتين</p>



واجب منزلي ٥ (م - ف) مادة علوم الصف الاول الفصل الدراسي الثاني

السؤال الاول : ظلل الشكل يمين الاجابة الصحيحة

٢



تمثل

(١) الصورة التالية

دوران تأرجح قفز ركض 

تمثل

(٢) الصورة التالية

انزلاق سحب دفع توقف


السؤال الثاني : ضع علامة (√) أمام كل عبارة من العبارات في الجدول

١



العبارة	صح	خطأ
الأم تدفع عربة الطفل		
يدفع محمد قشرة الموز		

السؤال الثالث : ضع دائرة حول الأشياء التي تسحب

٢



نموذج الاجابة للواجب المنزلي ٥ (م- ف) علوم للصف الاول الفصل الدراسي الثاني

السؤال	رقم الهدف	الاجابة	معلومات اضافية
١		تأرجح سحب	• درجة لكل اختيار صحيح
٢		(√) العبارة صح (√) العبارة خطأ	• درجة اذا كانت الاجابة صحيحة بالكامل
٣		 	درجتين اذا كانت جميع الاجابات صحيحة درجة اذا كانت اجابتين صحيحتين

سلطنة عمان

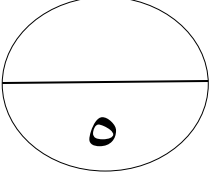
اسم التلميذ/

وزارة التربية والتعليم

الصف/

المديرية العامة للتربية والتعليم محافظة مسقط

مدرسة الزهراء للتعليم الاساسي



اختبار قصير ٣ (م - ف) مادة رياضيات الصف الأول الفصل الدراسي الثاني

السؤال الاول : ظلل الشكل يمين الاجابة الصحيحة

٢

(١) الرقم الموجود في منزلة الأحاد للعدد ٣٧ هو

٧٠

٣٠

٧

٣

(٢) مجموع $٥ + ١٠ =$

٢٠

١٥

١٠

٥

السؤال الثاني : اكمل ما يأتي

١

الأعداد التي تقع بين ١٧ و ٢٠ هي ،

السؤال الثالث : صل البطاقة من العمود الأيمن بالبطاقة المساوية في العمود الأيسر

٢

$٥ + ٥$

$٣ + ٦$

$٠ + ٧$

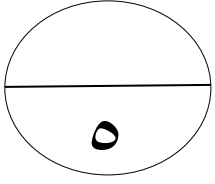
$٢ + ٨$

$٥ + ٤$

$١ + ٦$

نموذج الاجابة اختبار قصير ٣ (م - ف) مادة رياضيات الصف الأول الفصل الدراسي الثاني

السؤال	المستوى المعرفى	رقم الهدف	الاجابة	معلومات اضافية
١	استخراج	1Nn6	٧	• درجة للاختياري الصحيح
٢	حساب	1Nc8	١٥	• درجة للاختياري الصحيح
٣	تذكر	1Nn7	١٨ - ١٩	درجة اذا كانت الاجابة صحيحة بالكامل للعددین
	حساب	1Nc14	نواتج الجمع متساوية	درجتان



واجب منزلي ٣ (م - ف) مادة رياضيات الصف الأول الفصل الدراسي الثاني

السؤال الاول : ظلل الشكل يمين الاجابة الصحيحة

٢

(١) العدد الذي يأتي بعد ٢٠ هو

٢٢ ○

٢١ ○

٢١ ○

١٩ ○

(٢) ناتج طرح ١٢ - ٨ =

٦ ○

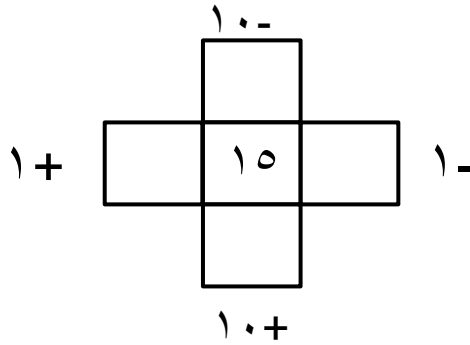
٥ ○

٤ ○

٣ ○

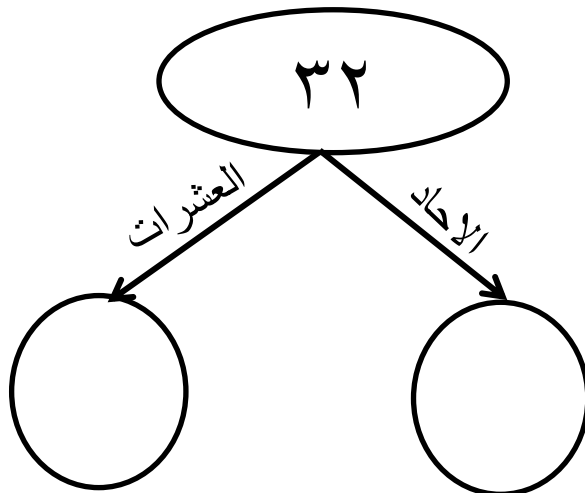
٢

السؤال الثاني : اكمل المخطط التالي :



السؤال الثالث : جزء الى احاد وعشرات

١



نموذج الاجابة اختبار قصير ٣ (م - ف) مادة رياضيات الصف الأول الفصل الدراسي الثاني

السؤال	المستوى المعرفي	رقم الهدف	الاجابة	معلومات اضافية
١	تذكر	1Nn7	٢١ (١)	درجة اذا كان اجابة واحدة صحيحة
٢	حساب	1Nc9	٤	• درجة اذا كان اجابة واحدة صحيحة
٣	حساب	1Nn7	$ \begin{array}{c} ١٠- \\ \boxed{٥} \\ \boxed{١٦} \quad \boxed{١٥} \quad \boxed{١٤} \\ \boxed{٢٥} \\ ١٠+ \end{array} $	درجتان لكل اجابتين درجة
	تحليل	1Nt6		درجة

